

06 03

225.88%

Школьный этап олимпиады по биологии 6 класс (25 баллов)

1. Для того чтобы рассмотреть клетки организма человека, нужно использовать:

- а) лупу;
б) бинокль;
15 в) микроскоп;
г) телескоп.

2. Мама поставила градусник своему ребёнку, посмотрела на этот прибор и установила, что ребёнок заболел. Этот вывод был сделан потому, что мама использовала метод:

- 15 а) измерения;
б) моделирования;
в) эксперимента;
г) наблюдения.

3. Что изучает ботаника?

- 15 а) все живое
б) животных
в) растения
г) человека

4. Образование органических веществ из неорганических с использованием энергии Солнца происходит у растений в процессе

- 15 а) фотосинтеза
б) дыхания
в) испарения
г) транспорта веществ

5. Кустарником называется растение, которое имеет:

- 15 а) один деревянистый стебель;
б) несколько деревянистых стеблей;
в) один травянистый стебель;
г) несколько травянистых стеблей.

Выбери правильный ответ

6. К биологическим наукам может относиться:



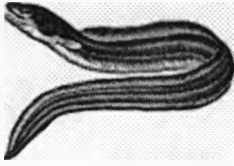
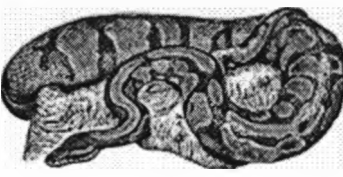
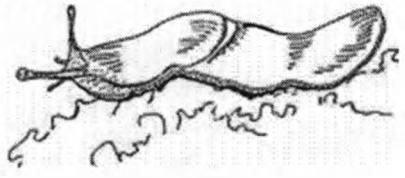
- 20 а) минералогия;
б) зоология;

в) палеонтология;

г) геология;

д) энтомология.

7. Каких из животных можно отнести к позвоночным?

1) дождевой червь	2) гремучая змея
 <i>Дождевой червь</i>	 <i>Гремучая змея</i>
3) угорь	4) питон
 <i>Угорь</i>	 <i>Питон</i>
5) слизень	
 <i>Слизень</i>	

8. Как называются эти растения? Где они растут? В каких условиях?



9. Из чего делают манную, перловую, гречневую, ячневую, пшеничную крупы. «Геркулес», мед, кефир, растительное масло, сливочное масло?

10. Перечислите способы защиты растений от травоядных животных.

Б Яд, колючки.^{№10}
№8

1. Ель - лес, лесостепь, тундра, Сибирские леса, альпийские тальги.
2. одуванчик - поля, степь, лесостепь.
3. - ^{морковь} Амарант - степь, лес, ^{лес} лесостепь, ^{поле}, тундра, тальги.

Манная - ^{ка} ~~ка~~ из зерна ^{№9} пшеницы
 Пшенично крупы - пшеница. Геркулес - геркулес.
 Мед - пчелы делают мед. Кефир - молоко, растительное
 масло - подсолнух, сливочное масло - сливки.